

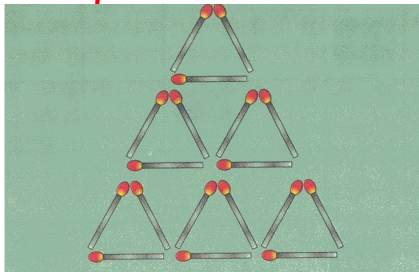
Σπύρος Γεωργίου

ΜΔ7. Τα παιδιά

Ένα ανδρόγυνο έχει συνολικά 6 παιδιά. Κάποια από αυτά είναι παιδιά της γυναίκας από τον πρώτο γάμο της, ενώ κάποια άλλα είναι του άντρα από τον πρώτο του γάμο. Αν καθένας είναι γονέας 4 παιδιών, πόσα παιδιά απέκτησαν μαζί κατά τον δεύτερο γάμο τους;



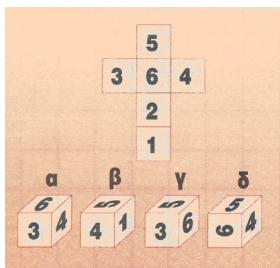
ΜΔ8. Τα σπέρτα




Στο παραπάνω σχήμα φαίνονται 9 μικρά και 4 μεγαλύτερα τρίγωνα. Μετακινήστε 3 σπέρτα, έτσι ώστε να μείνουν 7 μόνο μικρά τρίγωνα.

ΜΔ9. Οι κύβοι

Μπορείτε να βρείτε ποιος από τους 4 κύβους αντιστοιχεί στο ανάπτυγμα της παρακάτω εικόνας;



ΜΔ10. Τα ντόμινο



Τοποθετήστε τα 4 ντόμινο στις κατάλληλες θέσεις, ώστε να είναι σωστός ο πολλαπλασιασμός.

ΜΔ11. Ο στόχος

Σημαδέψτε τον παραπάνω στόχο με 8 τελείες (πυροβολισμούς), έτσι ώστε καθένας από τους 4 κύκλους και κάθε μία από τις 4 ευθείες να έχει δεχθεί από 2 πυροβολισμούς.

