



ΕΠΙΤΡΟΠΗ ΔΙΑΓΩΝΙΣΜΩΝ
85ος ΠΑΝΕΛΛΗΝΙΟΣ ΜΑΘΗΤΙΚΟΣ ΔΙΑΓΩΝΙΣΜΟΣ
ΣΤΑ ΜΑΘΗΜΑΤΙΚΑ "Ο ΘΑΛΗΣ"
8 Νοεμβρίου 2024

Οι λύσεις των προβλημάτων

Β' ΓΥΜΝΑΣΙΟΥ

Πρόβλημα 1

Να υπολογίσετε τις αριθμητικές παραστάσεις:

Να συγκρίνετε τους αριθμούς

$$A = -\left(\frac{(-10)^2 - (-8)^2}{-(-6)^2}\right)^{2024} + \frac{10}{11} \quad \text{και} \quad B = -[(3-8)^2 + (-3)^3 + 1]^{2000} + \frac{30}{31},$$

και να συγκρίνετε τους αριθμούς A και B.

Λύση

$$\begin{aligned} A &= -\left(\frac{(-10)^2 - (-8)^2}{-(-6)^2}\right)^{2024} + \frac{10}{11} = -\left(\frac{100 - 64}{-36}\right)^{2024} + \frac{10}{11} = -(-1)^{2024} + \frac{10}{11} \\ &= -1 + \frac{10}{11} = -\frac{1}{11}. \end{aligned}$$

$$\begin{aligned} B &= -[(3-8)^2 + (-3)^3 + 3]^{2000} + \frac{30}{31} = -[(-5)^2 + (-3)^3 + 1]^{2000} + \frac{30}{31} \\ &= -[25 + (-27) + 1]^{2000} + \frac{30}{31} = -(-1)^{2000} + \frac{30}{31} = -1 + \frac{30}{31} = -\frac{1}{31}. \end{aligned}$$

Επειδή

$$A - B = -\frac{1}{11} - \left(-\frac{1}{31}\right) = -\frac{1}{11} + \frac{1}{31} = -\frac{20}{11 \cdot 31} < 0 \Rightarrow A < B.$$

Πρόβλημα 2

Έστω θετικός ακέραιος α τέτοιος ώστε το ελάχιστο κοινό πολλαπλάσιο των αριθμών 24 και α να είναι ίσο με 120. Να προσδιορίσετε τις δυνατές τιμές του μέγιστου κοινού διαιρέτη των αριθμών 24 και α .

Λύση

Οι δυνατές τιμές του α είναι όλοι οι θετικοί ακέραιοι που είναι διαιρέτες του 120, αλλά όχι του 24, δηλαδή

$$\alpha \in \{5, 10, 15, 20, 30, 40, 60, 120\}.$$

Έχουμε $\text{MKΔ}(24, 5) = 1$, $\text{MKΔ}(24, 10) = 2$, $\text{MKΔ}(24, 15) = 3$, $\text{MKΔ}(24, 20) = 4$, $\text{MKΔ}(24, 30) = 6$,
 $\text{MKΔ}(24, 40) = 8$, $\text{MKΔ}(24, 60) = 12$, $\text{MKΔ}(24, 120) = 24$.

Άρα οι δυνατές τιμές του μέγιστου κοινού διαιρέτη των αριθμών 24 και α είναι οι:

$$1, 2, 3, 4, 6, 8, 12, 24.$$

Πρόβλημα 3

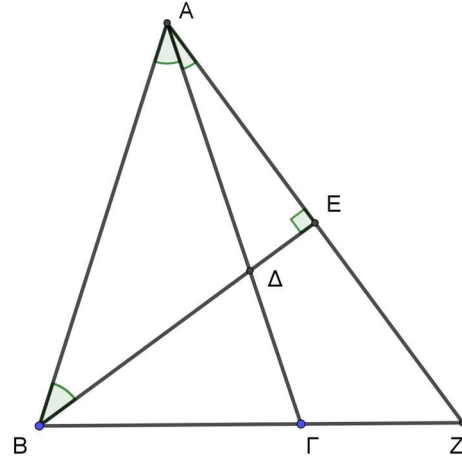
Στο διπλανό σχήμα το τρίγωνο $AB\Gamma$ είναι ισοσκελές με $AB = A\Gamma$. Το σημείο Δ ανήκει στην πλευρά $A\Gamma$ έτσι ώστε το τρίγωνο $B\Gamma\Delta$ να είναι ισοσκελές με $B\Gamma = B\Delta$. Το σημείο Z ανήκει στην ευθεία $B\Gamma$, έτσι ώστε η ευθεία AZ να είναι κάθετη προς την ευθεία $B\Delta$ στο σημείο E .

Δίνεται επίσης ότι: $\widehat{B\Delta A} = \widehat{A\Delta B}$.

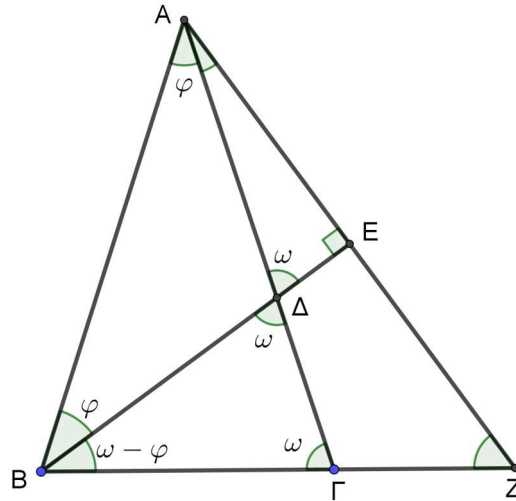
(α) Να υπολογίσετε τις γωνίες του τριγώνου $AB\Gamma$.

(β) Να αποδείξετε ότι: $\widehat{B\Delta\Gamma} = 2 \cdot \widehat{\Delta A E}$.

(γ) Να αποδείξετε ότι: $A\Gamma = BZ$.



Λύση



(α) Από το ισοσκελές τρίγωνο $AB\Gamma$ έχουμε:

$$\widehat{B} = \widehat{\Gamma} = \omega \text{ και } \widehat{A} = \varphi = 180^\circ - 2\omega \quad (1)$$

Για το ισοσκελές τρίγωνο $\Delta B\Gamma$ έχουμε:

$$\widehat{\Gamma} = \widehat{B\Delta\Gamma} = \omega \text{ και } \widehat{\Gamma\Delta B} = 180^\circ - 2\omega \quad (2)$$

Επειδή $\widehat{B\Delta A} = \widehat{A\Delta B}$ έπεται ότι: $\widehat{A\Delta B} = \widehat{A} = \varphi$ οπότε έχουμε:

$$\begin{aligned}\widehat{B} &= \widehat{A\widehat{B}\Delta} + \widehat{\Gamma\widehat{B}\Delta} \Leftrightarrow \omega = \varphi + 180^\circ - 2\omega \Leftrightarrow 3\omega = \varphi + 180^\circ \\ \Leftrightarrow 3\omega &= 180^\circ - 2\omega + 180^\circ \Leftrightarrow 5\omega = 360^\circ \Leftrightarrow \omega = \frac{360^\circ}{5} = 72^\circ.\end{aligned}$$

Άρα έχουμε

$$\widehat{A} = \varphi = 180^\circ - 2\omega = 180^\circ - 2 \cdot 72^\circ = 36^\circ.$$

(β) Επειδή $\widehat{A\widehat{\Delta}E} = \widehat{B\widehat{\Delta}\Gamma}$, ως κατά κορυφή, έπεται ότι:

$$\widehat{A\widehat{\Delta}E} = \widehat{B\widehat{\Delta}\Gamma} = \omega = 72^\circ,$$

οπότε από το ορθογώνιο τρίγωνο $\widehat{A\Delta E}$ έχουμε:

$$\widehat{\Delta\widehat{A}E} = 90^\circ - \widehat{A\widehat{\Delta}E} = 90^\circ - 72^\circ = 18^\circ.$$

Επειδή $\widehat{B\widehat{A}\Gamma} = 36^\circ$, έπεται ότι: $\widehat{B\widehat{A}\Gamma} = 2 \cdot \widehat{\Delta\widehat{A}E}$.

(γ) Επειδή $AB = A\Gamma$, αρκεί να αποδείξουμε ότι $AB = BZ$, δηλαδή αρκεί να αποδείξουμε ότι:

$\widehat{B\widehat{A}Z} = \widehat{B\widehat{Z}A}$, που ισχύει γιατί

$$\widehat{B\widehat{A}Z} = \widehat{A} + \widehat{\Delta\widehat{A}E} = 36^\circ + 18^\circ = 54^\circ$$

και από το ορθογώνιο τρίγωνο $\widehat{\Gamma B \Delta}$ έχουμε

$$\widehat{B\widehat{Z}A} = 90^\circ - \widehat{\Gamma\widehat{B}\Delta} = 90^\circ - (180^\circ - 2\omega) = 2\omega - 90^\circ = 54^\circ.$$

Γ' ΓΥΜΝΑΣΙΟΥ

Πρόβλημα 1

Να υπολογίσετε τις αριθμητικές παραστάσεις:

$$A = \left(\left(-\frac{99}{9} \right)^2 + \frac{(-3)^5}{9^2} \right) \cdot (-2024)^0 - 118 - \frac{2}{21},$$

$$B = \frac{(-20)^8}{4^8} - \left(-\frac{1}{5} \right)^{-8} - \frac{3}{32}.$$

και να συγκρίνετε τους αριθμούς A και B.

Λύση

$$\begin{aligned} A &= \left(\left(-\frac{99}{9} \right)^2 + \frac{(-3)^5}{9^2} \right) \cdot (-2024)^0 - 118 - \frac{2}{21} \\ &= \left((-11)^2 + \frac{-3^5}{9^2} \right) \cdot 1 - 118 - \frac{2}{21} = \left((-11)^2 - \frac{3^4 \cdot 3}{9^2} \right) \cdot 1 - 118 - \frac{2}{21} \\ &= (121 - 3) \cdot 1 - 118 - \frac{2}{21} = -\frac{2}{21}. \end{aligned}$$

$$B = \frac{(-20)^8}{4^8} - \left(-\frac{1}{5} \right)^{-8} - \frac{3}{32} = \left(\frac{-20}{4} \right)^8 - (-5)^8 - \frac{3}{32} = 5^8 - 5^8 - \frac{3}{32} = -\frac{3}{32}.$$

Θεωρούμε τη διαφορά A - B:

$$A - B = -\frac{2}{21} - \left(-\frac{3}{32} \right) = \frac{3}{32} - \frac{2}{21} = \frac{63 - 64}{672} = -\frac{1}{672} < 0 \Rightarrow A < B.$$

Πρόβλημα 2

Να προσδιορίσετε τους τριψήφιους θετικούς ακέραιους $\overline{\alpha\beta\gamma} = 100\alpha + 10\beta + \gamma$ που είναι εικοσαπλάσιοι του αθροίσματος των ψηφίων τους.

Λύση

Σύμφωνα με την υπόθεση πρέπει να είναι $0 < \alpha \leq 9$ και ισχύει η εξίσωση

$$\overline{\alpha\beta\gamma} = 100\alpha + 10\beta + \gamma = 20(\alpha + \beta + \gamma)$$

$$\Leftrightarrow 80\alpha - 10\beta = 19\gamma$$

$$\Leftrightarrow 10(8\alpha - \beta) = 19\gamma.$$

Από την τελευταία εξίσωση προκύπτει ότι ο ακέραιος 19γ είναι πολλαπλάσιο του 10, οπότε η μόνη δυνατή τιμή για το ψηφίο γ είναι η τιμή $\gamma = 0$. Τότε θα είναι $8\alpha - \beta = 0$, από την οποία προκύπτει ότι $\beta = 8\alpha$, οπότε $\alpha = 1$ και $\beta = 8$, αφού $0 < \beta \leq 9$. Άρα $\overline{\alpha\beta\gamma} = 180$.

(2^{ος} τρόπος)

Οι ζητούμενοι αριθμοί είναι πολλαπλάσια του 20, οπότε λήγουν σε 0. Το μεγαλύτερο δυνατό άθροισμα των ψηφίων ενός τέτοιου αριθμού είναι $9+8=17$, για τον 980, οπότε οποιοσδήποτε υποψήφιος αριθμός μεγαλύτερος του 340 απορρίπτεται, αφού όταν

διαιρεθεί με το 20 δίνει πηλίκο μεγαλύτερο του $340/20=17$. Οι ζητούμενοι αριθμοί, λοιπόν, είναι ανάμεσα στους παρακάτω δεκατρείς αριθμούς:

100, 120, 140, 160, 180, 200, 220, 240, 260, 280, 300, 320, 340.

Το μικρότερο δυνατό άθροισμα των ψηφίων ενός τέτοιου αριθμού είναι μεγαλύτερο από $100/20=5$. Οπότε απομένουν οι εξής έξι αριθμοί:

160, 180, 240, 260, 280 και 340.

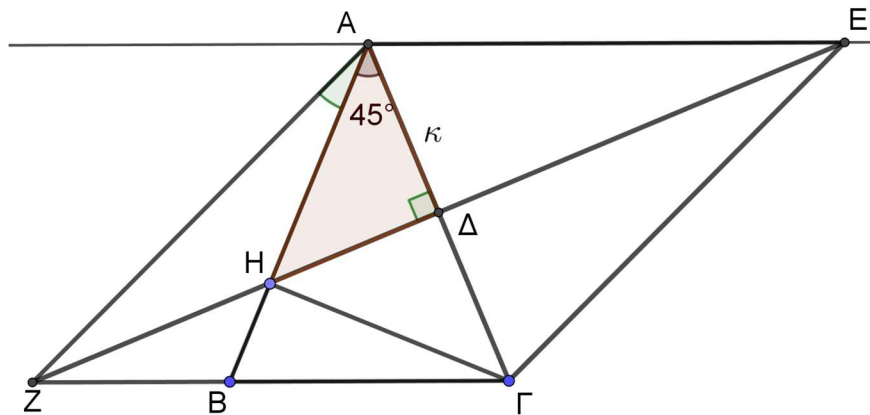
Εύκολα βλέπουμε ότι μόνο ο αριθμός 180 ισούται με το 20πλασιο του αθροίσματος των ψηφίων του.

Πρόβλημα 3

Στο παρακάτω σχήμα το τρίγωνο $AB\Gamma$ είναι ισοσκελές με $AB = A\Gamma$ και $\hat{A} = 45^\circ$. Το σημείο Δ είναι το μέσο της πλευράς $A\Gamma$. Η μεσοκάθετη της πλευράς $A\Gamma$ τέμνει την παράλληλη ευθεία από το σημείο A προς την ευθεία $B\Gamma$ στο σημείο E , την πλευρά AB στο σημείο H και την ευθεία $B\Gamma$ στο σημείο Z .

(α) Να υπολογίσετε τη γωνία $Z\hat{A}B$.

(β) Αν $A\Delta = \kappa$, να υπολογίσετε το εμβαδόν του τετραπλεύρου $AZ\Gamma E$ συναρτήσει του κ .



Λύση

(α) Επειδή το τρίγωνο $AB\Gamma$ είναι ισοσκελές με $AB = A\Gamma$ και $\hat{A} = 45^\circ$, έπεται ότι

$$\hat{\Gamma} = A\hat{\Gamma}Z = \frac{180^\circ - 45^\circ}{2} = 67,5^\circ.$$

Επειδή η ευθεία ZE είναι μεσοκάθετη της πλευράς $A\Gamma$, έπεται ότι το τρίγωνο $ZA\Gamma$ είναι ισοσκελές με $ZA = Z\Gamma$, οπότε θα είναι και

$$A\hat{\Gamma}Z = \Gamma\hat{A}Z = \hat{A} + Z\hat{A}B \Rightarrow Z\hat{A}B = 67,5^\circ - 45^\circ = 22,5^\circ.$$

(β) Το τρίγωνο $AH\Delta$ είναι ορθογώνιο και ισοσκελές, οπότε $H\Delta = A\Delta = \kappa$ και από το Πυθαγόρειο θεώρημα έχουμε

$$AH^2 = \kappa^2 + \kappa^2 = 2\kappa^2 \Rightarrow AH = \kappa\sqrt{2}.$$

Επειδή η γωνία $A\hat{H}\Delta = 45^\circ$ είναι εξωτερική στο τρίγωνο AHZ έχουμε

$$\widehat{A\hat{H}\Delta} = \widehat{Z\hat{A}H} + \widehat{H\hat{Z}A} \Rightarrow \widehat{H\hat{Z}A} = \widehat{A\hat{H}\Delta} - \widehat{Z\hat{A}H} = 45^\circ - 22,5^\circ = 22,5^\circ.$$

Άρα το τρίγωνο AHZ είναι ισοσκελές με $ZH = AH = x\sqrt{2}$, οπότε $Z\Delta = \kappa + \kappa\sqrt{2}$.

Επειδή $AE \parallel Z\Gamma$ έχουμε

$$\widehat{\Gamma\hat{Z}E} = \widehat{A\hat{E}Z} \quad (\text{εντός εναλλάξ})$$

Επίσης λόγω συμμετρίας ως προς τη μεσοκάθετη ZE της AG έχουμε

$$\widehat{\Gamma\hat{Z}E} = \widehat{A\hat{Z}E}.$$

Άρα είναι $\widehat{A\hat{Z}E} = \widehat{A\hat{E}Z}$, οπότε το τρίγωνο AZE είναι ισοσκελές με $AZ = AE$, οπότε τελικά είναι $AZ = AE = \Gamma E = \Gamma Z$ και επομένως τα ισοσκελή τρίγωνα AZΓ και AEG έχουν τις πλευρές τους ίσες μία προς μία (η πλευρά AG είναι κοινή), οπότε είναι ίσα.

Επομένως το εμβαδόν του τετραπλεύρου AZΓE είναι διπλάσιο του εμβαδού του τριγώνου AZΓ. Επειδή $AG = 2x$, $Z\Delta = \kappa + \kappa\sqrt{2}$, έχουμε:

$$(AZ\Gamma E) = 2 \cdot (AZ\Gamma) = 2 \cdot \frac{1}{2} \cdot 2\kappa \cdot (\kappa + \kappa\sqrt{2}) = 2\kappa^2(1 + \sqrt{2}).$$

A' ΛΥΚΕΙΟΥ

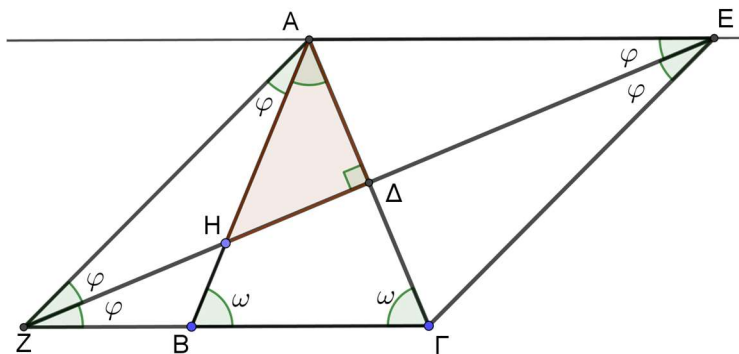
Πρόβλημα 1

Δίνεται ισοσκελές τρίγωνο ABΓ με $AB = AG$. Η μεσοκάθετη της πλευράς AG τέμνει την παράλληλη ευθεία από το σημείο A προς την ευθεία BΓ στο σημείο E, την πλευρά AB στο σημείο H και την ευθεία BΓ στο σημείο Z. Δίνεται ότι: $A\hat{Z}H = Z\hat{A}H$.

(α) Να υπολογίσετε τις γωνίες του τριγώνου ABΓ.

(β) Να αποδείξετε ότι το τετράπλευρο AZΓE είναι ρόμβος.

Λύση



Έστω $A\hat{Z}H = Z\hat{A}H = \varphi$ και $\widehat{B} = \widehat{\Gamma} = \omega$, οπότε $\widehat{A} = 180^\circ - 2\omega$.

Από το ορθογώνιο τρίγωνο AZΔ έχουμε:

$$\Delta\widehat{A}Z + \Delta\widehat{Z}A = 90^\circ \Leftrightarrow 180^\circ - 2\omega + \varphi + \varphi = 90^\circ$$

$$\Leftrightarrow \omega - \varphi = 45^\circ \quad (1)$$

Λόγω συμμετρίας ως προς τη μεσοκάθετη της πλευράς AG, έχουμε $A\hat{Z}H = H\hat{Z}B = \varphi$,

οπότε από το τρίγωνο ABZ και την εξωτερική του γωνία $\widehat{A\hat{B}\Gamma}$ έχουμε

$$\omega = \widehat{A\hat{B}\Gamma} = 3\varphi \quad (2)$$

Από τις σχέσεις (1) και (2) λαμβάνουμε

$$2\varphi = 45^\circ \Leftrightarrow \varphi = 22,5^\circ \text{ και } \omega = 67,5^\circ.$$

Άρα έχουμε

$$\widehat{B} = \widehat{\Gamma} = \omega = 67,5^\circ \text{ και } \widehat{A} = 180^\circ - 2\omega = 45^\circ.$$

(β) Επειδή $AE \parallel Z\Gamma$ έχουμε

$$\widehat{\Gamma Z E} = \widehat{A \hat{E} Z} \text{ (εντός εναλλάξ).}$$

Επίσης λόγω συμμετρίας ως προς τη μεσοκάθετη ZE της ΑΓ έχουμε

$$\widehat{\Gamma Z E} = \widehat{A Z E} = \varphi.$$

Άρα είναι $\widehat{A Z E} = \widehat{A \hat{E} Z} = \varphi$, οπότε το τρίγωνο AZE είναι ισοσκελές με $AZ = AE$. Λόγω συμμετρίας ως προς τη μεσοκάθετη ZE της ΑΓ έχουμε τελικά $AZ = AE = GE = \Gamma Z$.

Επίσης, λόγω συμμετρίας ως προς τη μεσοκάθετη της πλευράς ΑΓ, έχουμε

$$\widehat{\Gamma \hat{E} Z} = \widehat{A \hat{E} Z} = \varphi = \widehat{A Z E},$$

οπότε οι ευθείες AZ και ΓE τεμνόμενες από την ευθεία ZE σχηματίζουν δύο εντός εναλλάξ γωνίες ίσες, οπότε $\Gamma E \parallel AZ$.

Επομένως το τετράπλευρο AZΓE είναι παραλληλόγραμμο που έχει τις τέσσερις πλευρές του ίσες, οπότε είναι ρόμβος.

Πρόβλημα 2

Να προσδιορίσετε όλα τα ζεύγη πραγματικών αριθμών (x, y) τα οποία ικανοποιούν την εξίσωση:

$$(x^2 + 1)(y^2 + 1) + 4(x - 1)(y - 1) + 4(x + y - 1) = 0.$$

Λύση

Μετά τις πράξεις η εξίσωση παίρνει τη μορφή

$$(xy + 1)^2 + (x + y)^2 = 0 \Leftrightarrow xy + 1 = 0 \text{ και } x + y = 0 \Leftrightarrow xy = -1 \text{ και } y = -x \\ \Leftrightarrow x^2 = 1 \text{ και } y = -x \Leftrightarrow (x, y) = (1, -1) \text{ ή } (x, y) = (-1, 1).$$

Πρόβλημα 3 (8 μονάδες)

Έστω α, β πραγματικοί αριθμοί με $\alpha \neq 0$ τέτοιοι ώστε:

$$\frac{\beta}{\beta^2 + \beta + 1} = \alpha.$$

(α) Να εκφράσετε την παράσταση $\frac{\beta^2}{\beta^4 + \beta^2 + 1}$ συναρτήσει του α .

(β) Να προσδιορίσετε όλες τις τιμές του α ώστε

$$\frac{\beta^2}{\beta^4 + \beta^2 + 1} = \alpha.$$

Λύση

(α) Από την δεδομένη ισότητα έχουμε

$$\frac{\beta}{\beta^2 + \beta + 1} = \alpha \Rightarrow \frac{1}{\beta + \frac{1}{\beta} + 1} = \alpha \Rightarrow \beta + \frac{1}{\beta} = \frac{1 - \alpha}{\alpha}.$$

Άρα έχουμε

$$\left(\beta + \frac{1}{\beta}\right)^2 = \left(\frac{1 - \alpha}{\alpha}\right)^2 \Rightarrow \beta^2 + \frac{1}{\beta^2} + 2 = \left(\frac{1 - \alpha}{\alpha}\right)^2 \Rightarrow \beta^2 + \frac{1}{\beta^2} = \frac{1 - 2\alpha - \alpha^2}{\alpha^2},$$

μέσω της οποίας προκύπτει

$$\frac{\beta^2}{\beta^4 + \beta^2 + 1} = \frac{1}{\beta^2 + \frac{1}{\beta^2} + 1} = \frac{1}{\frac{1 - 2\alpha - \alpha^2}{\alpha^2} + 1} = \frac{\alpha^2}{1 - 2\alpha}.$$

(β) Έχουμε

$$\frac{\beta^2}{\beta^4 + \beta^2 + 1} = \alpha \Leftrightarrow \alpha = \frac{\alpha^2}{1 - 2\alpha} \Leftrightarrow 1 - 2\alpha = \alpha \Leftrightarrow \alpha = \frac{1}{3}.$$

2ος τρόπος

(α) Είναι $\beta^2 + \beta + 1 = \frac{\beta}{\alpha}$, οπότε $\beta^2 + 1 = \left(\frac{1}{\alpha} - 1\right)\beta$, και άρα

$$\beta^4 + 2\beta^2 + 1 = \left(\frac{1}{\alpha} - 1\right)^2 \beta^2 = \left(\frac{1}{\alpha^2} - \frac{2}{\alpha} + 1\right)\beta^2.$$

Έτσι έχουμε

$$\beta^4 + \beta^2 + 1 = \left(\frac{1}{\alpha^2} - \frac{2}{\alpha}\right)\beta^2 = \frac{1 - 2\alpha}{\alpha^2}\beta^2,$$

οπότε $1 - 2\alpha \neq 0$ και

$$\frac{\beta^2}{\beta^4 + \beta^2 + 1} = \frac{\alpha^2}{1 - 2\alpha}.$$

(β) Αρχικά παρατηρούμε ότι

$$\beta^4 + \beta^2 + 1 = (\beta^4 + 2\beta^2 + 1) - \beta^2 = (\beta^2 + 1)^2 - \beta^2 = (\beta^2 + \beta + 1)(\beta^2 - \beta + 1),$$

οπότε

$$\frac{\beta^2}{\beta^4 + \beta^2 + 1} = \frac{\beta}{\beta^2 + \beta + 1} \cdot \frac{\beta}{\beta^2 - \beta + 1} = \alpha \cdot \frac{\beta}{\beta^2 - \beta + 1}$$

Αφού $\alpha \neq 0$, από την παραπάνω ισότητα παίρνουμε

$$\frac{\beta^2}{\beta^4 + \beta^2 + 1} = \alpha \Leftrightarrow \beta = \beta^2 - \beta + 1 \Leftrightarrow 3\beta = \beta^2 + \beta + 1$$

$$\Leftrightarrow \frac{\beta}{\beta^2 + \beta + 1} = \frac{1}{3} \Leftrightarrow \alpha = \frac{1}{3}.$$

Σχόλια. Η παραγοντοποίηση στη λύση του (β) μπορεί να χρησιμοποιηθεί για να δώσει μια ακόμη λύση στο (α) ως εξής:

Έχουμε

$$\frac{\beta^2 - \beta + 1}{\beta} = \frac{\beta^2 + \beta + 1}{\beta} - 2 = \frac{1}{a} - 2 = \frac{1 - 2a}{a}.$$

Έτσι $1 - 2a \neq 0$ και

$$\frac{\beta}{\beta^2 - \beta + 1} = \frac{a}{1 - 2a},$$

οπότε

$$\frac{\beta^2}{\beta^4 + \beta^2 + 1} = \frac{\beta}{\beta^2 + \beta + 1} \cdot \frac{\beta}{\beta^2 - \beta + 1} = \frac{\alpha^2}{1 - 2a}.$$

B' ΛΥΚΕΙΟΥ

Πρόβλημα 1

Να βρείτε τις δυνατές τιμές του x , αν ισχύουν οι ισότητες:

$$x = \frac{\delta}{\alpha + \beta + \gamma} = \frac{\alpha}{\beta + \gamma + \delta} = \frac{\beta}{\gamma + \delta + \alpha} = \frac{\gamma}{\delta + \alpha + \beta},$$

όπου $\alpha, \beta, \gamma, \delta \in \mathbb{R}$, έτσι ώστε όλοι οι παρονομαστές να είναι διάφοροι του 0.

Λύση

Από την υπόθεση έχουμε

$$x(\alpha + \beta + \gamma) = \delta, \quad x(\beta + \gamma + \delta) = \alpha, \quad x(\gamma + \delta + \alpha) = \beta, \quad x(\delta + \alpha + \beta) = \gamma,$$

από τις οποίες με πρόσθεση κατά μέλη λαμβάνουμε:

$$3x(\alpha + \beta + \gamma + \delta) = \alpha + \beta + \gamma + \delta. \quad (1)$$

Διακρίνουμε τώρα τις περιπτώσεις:

(1) Αν $\alpha + \beta + \gamma + \delta \neq 0$, τότε από την εξίσωση (1) προκύπτει ότι:

$$3x = 1 \Leftrightarrow x = \frac{1}{3}.$$

(2) Αν $\alpha + \beta + \gamma + \delta = 0$, τότε από την υπόθεση έχουμε

$$x = \frac{\delta}{\alpha + \beta + \gamma} = \frac{\delta}{-\delta} = -1,$$

η οποία επαληθεύει και τις υπόλοιπες σχέσεις της υπόθεσης.

Άρα οι δυνατές τιμές του x είναι $\frac{1}{3}$ και -1 .

Πρόβλημα 2

Δίνεται ισοσκελές τρίγωνο $AB\Gamma$ με $AB = A\Gamma$ και $\hat{A} = 36^\circ$. Προεκτείνουμε την πλευρά $B\Gamma$ προς το μέρος του Γ κατά τμήμα $\Gamma\Delta = AB$. Από το Δ φέρουμε ευθεία παράλληλη προς την πλευρά AB και πάνω σε αυτή παίρνουμε σημείο E τέτοιο ώστε $\Delta E = A\Delta$ και τα σημεία A και

Ε να βρίσκονται στο ίδιο ημιεπίπεδο ως προς την ευθεία ΒΓ. Αν η ευθεία ΒΕ τέμνει την πλευρά ΑΓ στο σημείο Ζ, να αποδείξετε ότι η ευθεία ΔΖ είναι κάθετη προς την πλευρά ΑΒ.

Λύση

Επειδή $\hat{A} = 36^\circ$ και $AB = AG$, έπεται ότι

$$\omega = \hat{B} = \hat{\Gamma} = \frac{180^\circ - 36^\circ}{2} = 72^\circ.$$

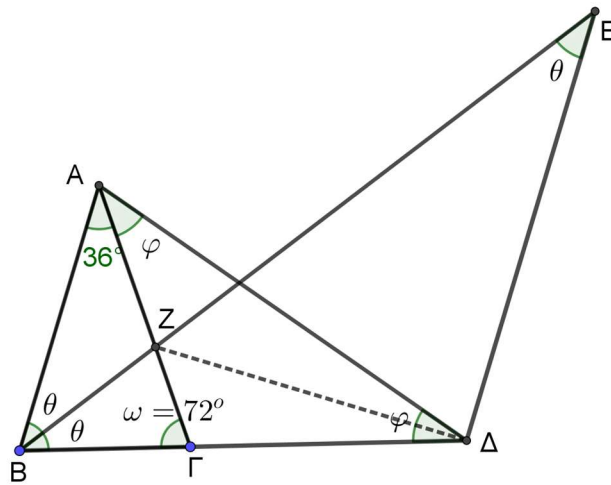
Επειδή $GD = AB$, έπεται ότι

$$B\hat{\Delta}A = G\hat{\Delta}A = G\hat{A}\Delta = \varphi.$$

Επειδή η γωνία $\hat{\Gamma}$ είναι εξωτερική στο τρίγωνο ΑΓΔ έπεται ότι

$$\omega = 2\varphi \Rightarrow 2\varphi = 72^\circ \Rightarrow \varphi = 36^\circ = \hat{A}.$$

Άρα η ευθεία ΑΓ είναι διχοτόμος της γωνίας $B\hat{A}\Delta$.



Επειδή $B\hat{A}\Delta = \hat{A} + G\hat{A}\Delta = 36^\circ + 36^\circ = 72^\circ = \hat{B}$, έπεται ότι το τρίγωνο ΑΒΔ είναι ισοσκελές με $\Delta A = \Delta B$.

Επειδή $\Delta E \parallel AB$, έπεται ότι $A\hat{\Delta}E = B\hat{A}\Delta = 72^\circ$, οπότε

$$B\hat{\Delta}E = B\hat{\Delta}A + A\hat{\Delta}E = 36^\circ + 72^\circ = 108^\circ,$$

οπότε από το ισοσκελές τρίγωνο ΒΔΕ έπεται ότι

$$\Delta\hat{B}E = \Delta\hat{E}B = \frac{180^\circ - 108^\circ}{2} = 36^\circ.$$

Άρα είναι $A\hat{B}E = \hat{B} - \Delta\hat{B}E = 36^\circ = \Delta\hat{B}E$, οπότε η ευθεία ΒΕ είναι διχοτόμος της γωνίας $A\hat{B}\Delta$. Επομένως στο τρίγωνο ΑΒΔ το σημείο Ζ είναι το σημείο τομής των διχοτόμων του. Άρα η ευθεία ΔΖ είναι διχοτόμος της γωνίας $B\hat{\Delta}A$ και επειδή το τρίγωνο ΑΒΔ είναι ισοσκελές με $\Delta A = \Delta B$ έπεται ότι η ευθεία ΔΖ είναι και ύψος, δηλαδή $\Delta Z \perp AB$.

Πρόβλημα 3

Να βρείτε την αναγκαία και ικανή συνθήκη μεταξύ των παραμέτρων $a, b \in \mathbb{R}$, $a > 0$, έτσι ώστε να υπάρχουν πραγματικοί αριθμοί $x, y \neq 0$ που ικανοποιούν τις σχέσεις

$$\frac{1}{x} + \frac{1}{y} = a \quad \text{και} \quad \frac{1}{x^3} + \frac{1}{y^3} = b.$$

Λύση (1^{ος} τρόπος)

Από την πρώτη εξίσωση του συστήματος με ύψωση των δύο μελών στον κύβο και λαμβάνοντας υπόψη τη δεύτερη εξίσωση έχουμε

$$\frac{1}{x^3} + \frac{1}{y^3} + \frac{3}{xy} \left(\frac{1}{x} + \frac{1}{y} \right) = a^3 \Leftrightarrow \frac{3a}{xy} = a^3 - b \Leftrightarrow xy = \frac{3a}{a^3 - b}.$$

Σημειώνουμε ότι από τις υποθέσεις είναι

$$a^3 - b = \frac{3a}{xy} \neq 0.$$

Τότε η πρώτη εξίσωση μας δίνει

$$x + y = axy \Leftrightarrow x + y = \frac{3a^2}{a^3 - b}.$$

Επομένως οι άγνωστοι x, y είναι οι ρίζες της δευτεροβάθμιας εξίσωσης

$$t^2 - \frac{3a^2}{a^3 - b} \cdot t + \frac{3a}{a^3 - b} = 0,$$

η οποία έχει ρίζες στους πραγματικούς αριθμούς, αν, και μόνον αν, η διακρίνουσά της είναι μεγαλύτερη ή ίση του μηδενός, δηλαδή

$$\begin{aligned} \Delta &= \left(\frac{3a^2}{a^3 - b} \right)^2 - \frac{12a}{a^3 - b} \geq 0 \Leftrightarrow \frac{9a^4 - 12a(a^3 - b)}{(a^3 - b)^2} \geq 0 \Leftrightarrow \frac{-3a^4 + 12ab}{(a^3 - b)^2} \geq 0 \\ &\Leftrightarrow -3a^4 + 12ab \geq 0 \Leftrightarrow 3a(4b - a^3) \geq 0 \stackrel{a>0}{\Leftrightarrow} a^3 \leq 4b. \end{aligned}$$

Επομένως, υπάρχουν πραγματικοί αριθμοί $x, y \neq 0$ που ικανοποιούν τις δεδομένες σχέσεις, αν, και μόνον αν,

$$a^3 \leq 4b \quad \text{και} \quad a^3 \neq b.$$

(2^{ος} τρόπος)

Μπορούμε να εργαστούμε ανάλογα με τον πρώτο τρόπο, χρησιμοποιώντας το μετασχηματισμό

$$\frac{1}{x} = \varphi, \quad \frac{1}{y} = \omega$$

οπότε θα προκύψουν σχέσεις

$$\varphi + \omega = a \quad \text{και} \quad \varphi^3 + \omega^3 = b$$

Γ' ΛΥΚΕΙΟΥ

Πρόβλημα 1

Αν α, β, γ είναι πραγματικοί αριθμοί τέτοιοι ώστε

$$|\alpha + \beta + \gamma + \alpha\beta\gamma| = |\alpha\beta + \beta\gamma + \gamma\alpha + 1|,$$

να συγκρίνετε τους αριθμούς

$$A = \alpha^2 + \beta^2 + \gamma^2 + \alpha^2\beta^2\gamma^2 \text{ και } B = \alpha^2\beta^2 + \beta^2\gamma^2 + \gamma^2\alpha^2 + 1.$$

Λύση (1^{ος} τρόπος)

Επειδή οι παραστάσεις A και B εμφανίζουν τα τετράγωνα των όρων των δύο παραστάσεων της δεδομένης ισότητας θεωρούμε τα τετράγωνα των δύο μελών της δεδομένης ισότητας. Έχουμε:

$$\begin{aligned} |\alpha + \beta + \gamma + \alpha\beta\gamma| &= |\alpha\beta + \beta\gamma + \gamma\alpha + 1| \Rightarrow \\ (\alpha + \beta + \gamma + \alpha\beta\gamma)^2 &= (\alpha\beta + \beta\gamma + \gamma\alpha + 1)^2 \Rightarrow \\ \alpha^2 + \beta^2 + \gamma^2 + \alpha^2\beta^2\gamma^2 + 2\alpha\beta + 2\beta\gamma + 2\gamma\alpha + 2\alpha^2\beta\gamma + 2\alpha\beta^2\gamma + 2\alpha\beta\gamma^2 &= \\ \alpha^2\beta^2 + \beta^2\gamma^2 + \gamma^2\alpha^2 + 1 + 2\alpha\beta + 2\beta\gamma + 2\gamma\alpha + 2\alpha^2\beta\gamma + 2\alpha\beta^2\gamma + 2\alpha\beta\gamma^2 &\Rightarrow \\ \alpha^2 + \beta^2 + \gamma^2 + \alpha^2\beta^2\gamma^2 &= \alpha^2\beta^2 + \beta^2\gamma^2 + \gamma^2\alpha^2 + 1 \Rightarrow A = B. \end{aligned}$$

2^{ος} τρόπος

Θεωρούμε τη διαφορά

$$\begin{aligned} A - B &= \alpha^2 + \beta^2 + \gamma^2 + \alpha^2\beta^2\gamma^2 - (\alpha^2\beta^2 + \beta^2\gamma^2 + \gamma^2\alpha^2 + 1) \\ &= (\alpha^2 - 1)(\beta^2 - 1)(\gamma^2 - 1). \end{aligned}$$

Ισχύουν οι ισότητες

$$\begin{aligned} (\alpha + 1)(\beta + 1)(\gamma + 1) &= \alpha\beta\gamma + \alpha + \beta + \gamma + \alpha\beta + \beta\gamma + \gamma\alpha + 1, \\ (\alpha - 1)(\beta - 1)(\gamma - 1) &= \alpha\beta\gamma + \alpha + \beta + \gamma - (\alpha\beta + \beta\gamma + \gamma\alpha + 1), \end{aligned}$$

από τις οποίες με πολλαπλασιασμό κατά μέλη λαμβάνουμε

$$(\alpha^2 - 1)(\beta^2 - 1)(\gamma^2 - 1) = (\alpha\beta\gamma + \alpha + \beta + \gamma)^2 - (\alpha\beta + \beta\gamma + \gamma\alpha + 1)^2 = 0 \Rightarrow A = B$$

Πρόβλημα 2

Έστω η συνάρτηση $f: \mathbb{R} \rightarrow \mathbb{R}$, τέτοια ώστε

$$f(xy) = xf(y) + f(x) - 2024x.$$

για κάθε $x, y \in \mathbb{R}$. Αν $f(f(1)) = 1$, να βρείτε την τιμή του $f(2025)$.

Λύση

Για $y = 0$, η δοθείσα σχέση δίνει

$$f(0) = xf(0) + f(x) - 2024x \quad (1)$$

$$\Leftrightarrow f(x) = f(0) - (f(0) - 2024)x, \quad (2)$$

για κάθε $x \in \mathbb{R}$.

Για $x = 1$, η δοθείσα σχέση δίνει

$$f(y) = f(y) + f(1) - 2024 \Rightarrow f(1) = 2024,$$

οπότε από τη σχέση $f(f(1)) = 1$, προκύπτει ότι: $f(2024) = f(f(1)) = 1$.

Για $x = 2024$, η σχέση (1) δίνει

$$f(0) = 2024f(0) + 1 - 2024^2 \Rightarrow f(0) = \frac{1 - 2024^2}{1 - 2024} = 1 + 2024 = 2025,$$

οπότε από τη σχέση (2) λαμβάνουμε

$$f(x) = 2025 - (2025 - 2024)x = 2025 - x \Rightarrow f(2025) = 0.$$

Πρόβλημα 3

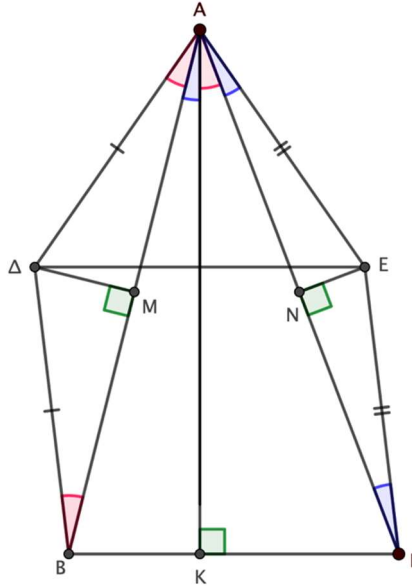
Στο εξωτερικό ενός οξυγώνιου τριγώνου $AB\Gamma$ κατασκευάζουμε δύο ισοσκελή τρίγωνα $A\Delta B$ και $A\epsilon\Gamma$, με $A\Delta = \Delta B$ και $A\epsilon = \epsilon\Gamma$, τέτοια ώστε

$$\widehat{A\Delta B} = 2 \cdot \widehat{A\Gamma B} \text{ και } \widehat{A\epsilon\Gamma} = 2 \cdot \widehat{A\Gamma B}.$$

Να αποδείξετε ότι το τετράπλευρο $B\Delta\epsilon\Gamma$ είναι παραλληλόγραμμο.

Λύση (1^{ος} τρόπος)

Έστω K , M , και N σημεία στις πλευρές $B\Gamma$, AB και $A\Gamma$ του τριγώνου $AB\Gamma$ τέτοια ώστε να ισχύουν: $AK \perp B\Gamma$, $\Delta M \perp AB$, και $\epsilon N \perp A\Gamma$.



Αφού το τρίγωνο $A\Delta B$ είναι ισοσκελές, η ΔM είναι διάμεσος, και διχοτόμος της γωνίας $\widehat{A\Delta B}$. Τότε $\widehat{B\Delta M} = \widehat{B\Gamma A}$, οπότε $\widehat{\Delta B A} = 90^\circ - \widehat{A\Gamma B}$. Ομοίως, $\widehat{\epsilon\Gamma A} = 90^\circ - \widehat{A\Gamma B}$. Έτσι, έχουμε

$$\begin{aligned} \widehat{\Delta B\Gamma} + \widehat{\epsilon\Gamma B} &= (\widehat{\Delta B A} + \widehat{A\Gamma B}) + (\widehat{\epsilon\Gamma A} + \widehat{A\Gamma B}) \\ &= (90^\circ - \widehat{A\Gamma B}) + \widehat{A\Gamma B} + (90^\circ - \widehat{A\Gamma B}) + \widehat{A\Gamma B} = 180^\circ. \end{aligned}$$

Συνεπώς, έχουμε: $\Delta B \parallel \epsilon\Gamma$.

Για να αποδείξουμε ότι το τετράπλευρο ΒΔΕΓ είναι παραλληλόγραμμο, αρκεί να αποδείξουμε ότι ΔΒ = ΕΓ. Πράγματι, από την ομοιότητα των ορθογώνιων τριγώνων ΔΒΜ και ΓΑΚ ($\widehat{\Delta B M} = 90^\circ - \widehat{B \Gamma A} = \widehat{\Gamma \hat{A} K}$), και αφού ΓΑ = 2ΓΝ, παίρνουμε:

$$\frac{\Delta B}{B M} = \frac{\Gamma A}{A K} = \frac{2 \cdot \Gamma N}{A K} \quad (1)$$

Από την ομοιότητα των ορθογώνιων τριγώνων ΕΓΝ και ΒΑΚ, και αφού ΒΑ = 2 · ΒΜ, παίρνουμε

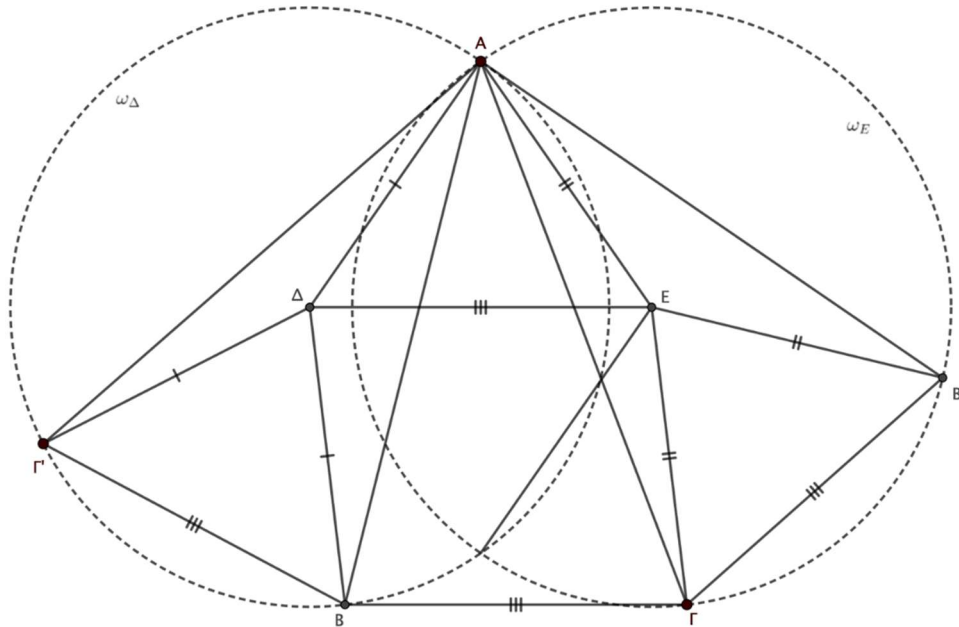
$$\frac{E \Gamma}{\Gamma N} = \frac{B A}{A K} = \frac{2 \cdot B M}{A K} \quad (2)$$

Από τις σχέσεις (1) και (2) έπεται ότι ΔΒ = ΕΓ, όπως θέλαμε.

Σχόλιο. Οι σχέσεις (1) και (2) προκύπτουν και από τον τύπο του ημιτόνου σε ορθογώνιο τρίγωνο.

(2ος τρόπος)

Έστω Γ' σημείο στον κύκλο ω_Δ με κέντρο το Δ και ακτίνα ΔΑ = ΔΒ τέτοιο ώστε $\widehat{\Gamma' A B} = \widehat{B A \Gamma}$, και έστω Β' σημείο στον κύκλο ω_Ε με κέντρο το Ε και ακτίνα ΕΑ = ΕΓ τέτοιο ώστε $\widehat{B' A \Gamma} = \widehat{\Gamma A B}$.



Αφού κάθε εγγεγραμμένη γωνία ισούται με το μισό της επίκεντρης γωνίας που βαίνει στο ίδιο τόξο, έχουμε

$$\widehat{A \Gamma' B} = \frac{\widehat{A \Delta B}}{2} = \widehat{A \Gamma B} \quad \text{και} \quad \widehat{\Gamma' \Delta B} = 2 \cdot \widehat{\Gamma' A B} = 2 \cdot \widehat{B A \Gamma}.$$

Από το άθροισμα γωνιών τριγώνου, έπεται ότι $\widehat{\Gamma'BA} = \widehat{AB\Gamma}$, και άρα τα τρίγωνα $AB\Gamma'$ και $AB\Gamma$ είναι ίσα, από Γ-Π-Γ, με κοινή πλευρά την AB . Συνεπώς, είναι $\Delta A = \Delta B = R$, όπου R είναι η ακτίνα του περιγεγραμμένου κύκλου του τριγώνου $AB\Gamma$. Ομοίως, $AE = E\Gamma = R$.

Παρατηρούμε ότι

$$\begin{aligned}\widehat{\Delta AE} &= \widehat{\Delta AB} + \widehat{BA\Gamma} + \widehat{\Gamma AE} = (90^\circ - \widehat{A\Gamma B}) + \widehat{BA\Gamma} + (90^\circ - \widehat{AB\Gamma}) \\ &= (180^\circ - \widehat{A\Gamma B} - \widehat{AB\Gamma}) + \widehat{BA\Gamma} \\ &= 2 \cdot \widehat{BA\Gamma} = \widehat{\Gamma' \Delta B}.\end{aligned}$$

Αφού $\Gamma'\Delta = \Delta B = \Delta A = AE = R$, τα ισοσκελή τρίγωνα $\Gamma'\Delta B$ και ΔAE είναι ίσα από Π-Γ-Π, οπότε $\Delta E = B\Gamma' = B\Gamma$. Επομένως, το τετράπλευρο $B\Delta E\Gamma$ έχει τις απέναντι πλευρές του ίσες, και άρα είναι παραλληλόγραμμο.